



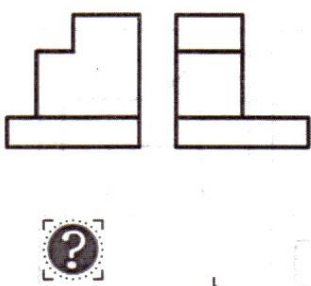
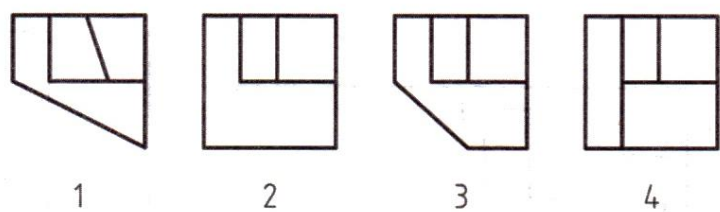
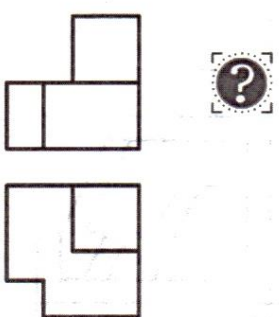
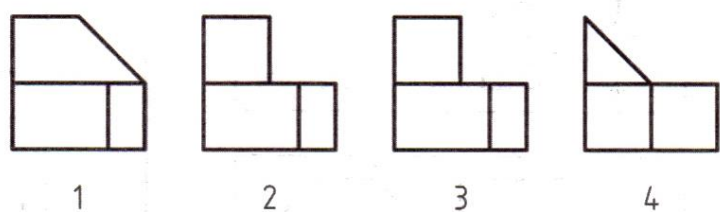
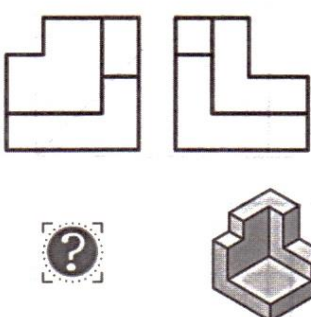
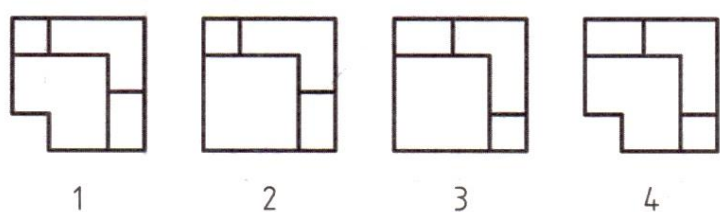
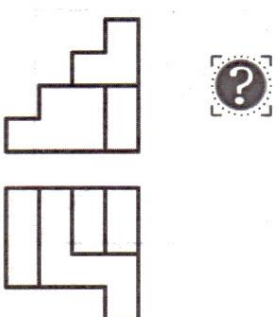
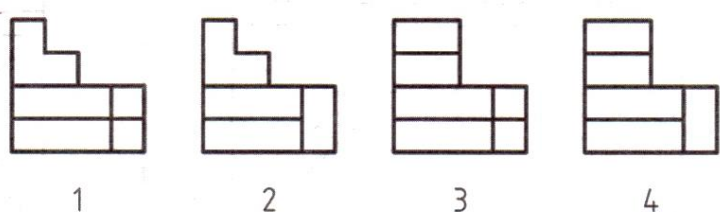
دانشگاه پیام نور اصفهان

# تکلیف سری سوم نقشه کشی صنعتی ۱

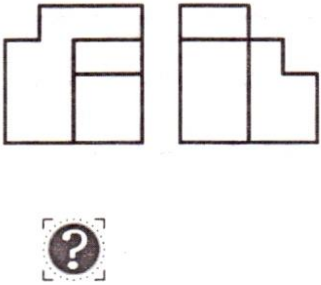
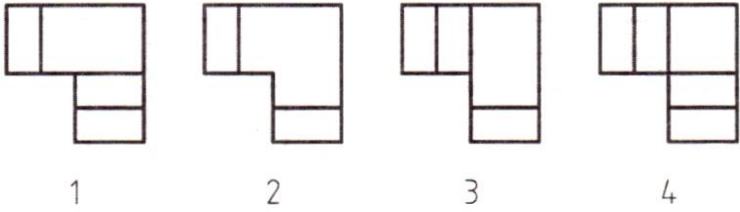
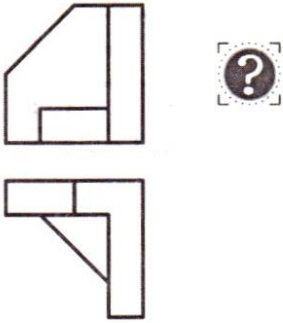
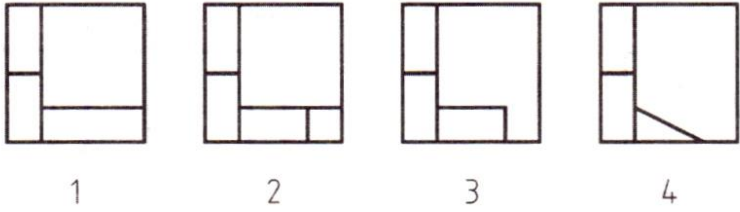
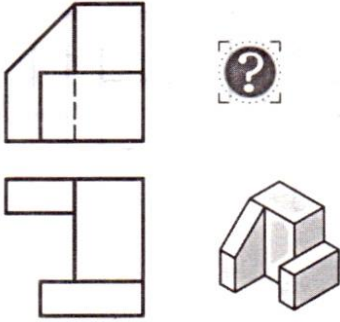
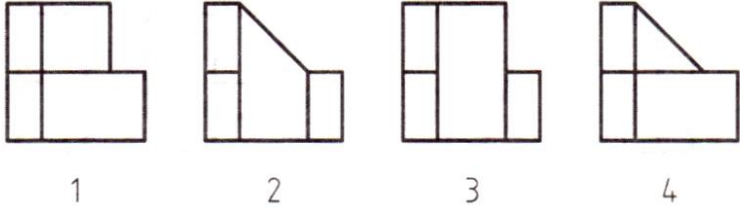
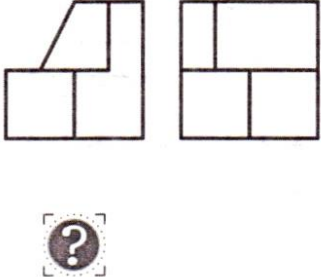
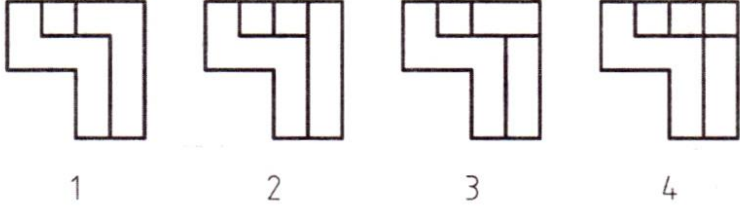
با توجه به دو نمای داده شده، نمای سوم را با استفاده از آنالیز حجم رسم کنید.

<p>13</p>	<p>14</p>	<p>15</p>
<p>16</p>	<p>17</p>	<p>18</p>
<p>19</p>	<p>20</p>	<p>21</p>
<p>22</p>	<p>23</p>	<p>24</p>

با توجه به دو نمای داده شده، نمای سوم صحیح را انتخاب کنید.

 <p>1</p>	 <p>1 2 3 4</p>
 <p>2</p>	 <p>1 2 3 4</p>
 <p>3</p>	 <p>1 2 3 4</p>
 <p>4</p>	 <p>1 2 3 4</p>

با توجه به دو نمای داده شده، نمای سوم صحیح را انتخاب کنید.

 <p>1</p>	 <p>1 2 3 4</p>
 <p>2</p>	 <p>1 2 3 4</p>
 <p>3</p>	 <p>1 2 3 4</p>
 <p>4</p>	 <p>1 2 3 4</p>