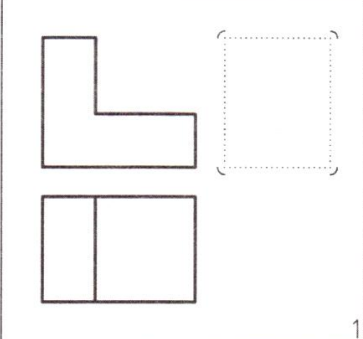
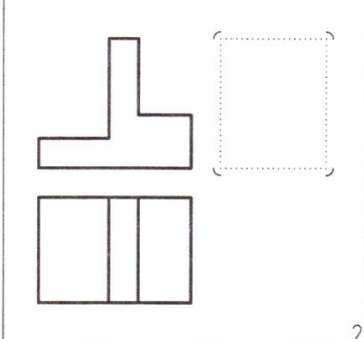
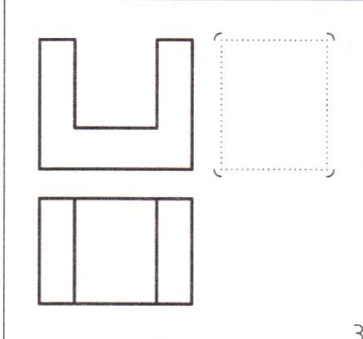
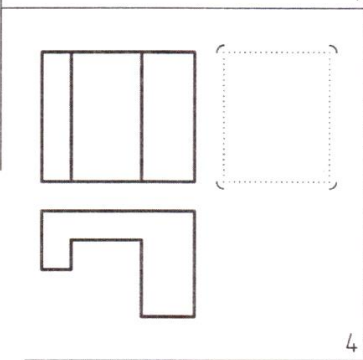
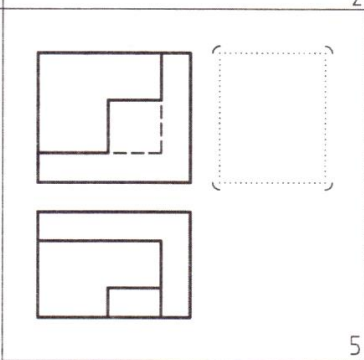
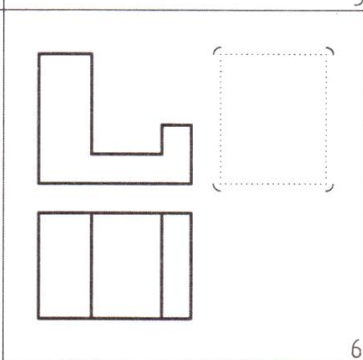
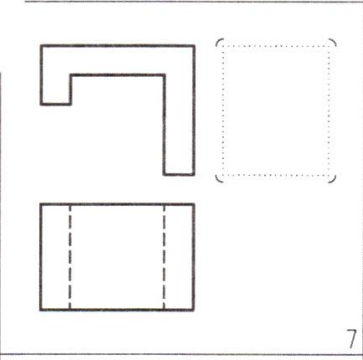
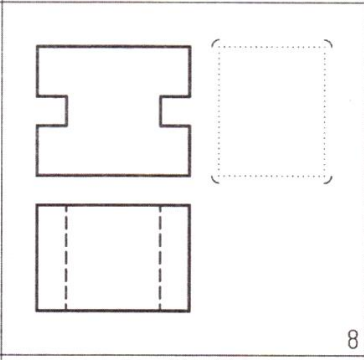
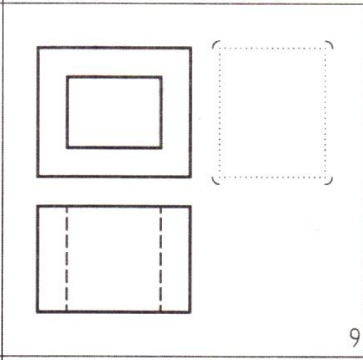
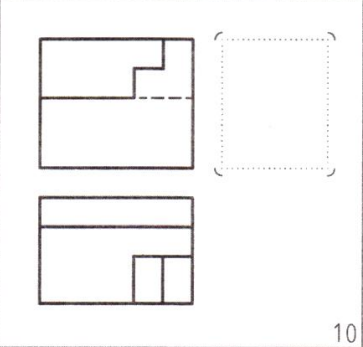
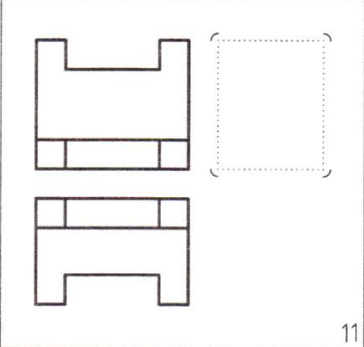
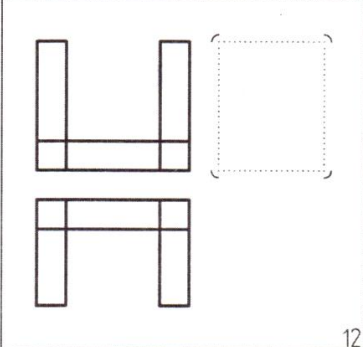




دانشگاه پیام نور اصفهان

تکلیف سری چهارم نقشه کشی صنعتی ۱

با توجه به دو نمای داده شده، نمای سوم را رسم کنید.

 <p>1</p>	 <p>2</p>	 <p>3</p>
 <p>4</p>	 <p>5</p>	 <p>6</p>
 <p>7</p>	 <p>8</p>	 <p>9</p>
 <p>10</p>	 <p>11</p>	 <p>12</p>

با توجه به دو نمای داده شده، نمای سوم را با استفاده از آنالیز سطح رسم کنید.

